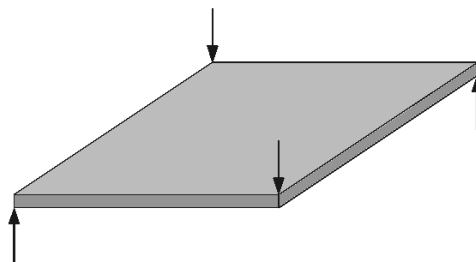




Pour les plaques rectangulaires et uniformément chargées ci-dessous:

- Esquisser la déformée selon  $xy$ ,
- Dessiner l'aspect des diagrammes des moments,
- Tracer quelques cercles de Mohr caractéristiques,
- Localiser les régions qui correspondent à  $\max(m_{xy})$  et à  $m_{xy} = 0$ ,
- Donner les conditions de bord des isostatiques.



- conditions d'appui:
- bord libre \_\_\_\_\_
  - bord librement appuyé = = = = =
  - bord encastré ██████████